

# 平成 25 年度 自称アキバガイド検定試験問題

自称アキバガイド検定試験は、秋葉原案内所の新人ガイドの研修用に作成した、秋葉原を案内する際に必要と思われる雑学の一部を抜粋しクイズ形式にしたものです。今回は初めての実施となりますが、秋葉原の地理、秋葉原の歴史、秋葉原電気街、趣都アキハバラの4ジャンルに緩く分けて出題しております。この自称アキバガイド検定をきっかけに秋葉原に対してご興味を持って頂けると幸いです。

次の注意事項に従って解答してください(全4ページ)  
なお、本試験問題は平成25年8月1日現在を基準としております。

## 〔注意事項〕

1. 試験問題の目安時間は2時間を想定しています。
2. 答えは解答用紙に直接記入してください。
3. 筆記用具は鉛筆(シャープペンシル含む)・ボールペンを使用しきれいに書いてください。
4. 試験中は答えをおともだちやグーグル先生、ウィキペディア先生などに聞いたりせず、自分の力で解いてみてください。
5. 試験終了後、この問題冊子は持ち帰ることができます。
6. 試験の採点を希望される方は、コミックマーケット84の2日目東P16a「秋葉原案内所 有明支部」までこの用紙をお持込ください。  
(試験の答えはコミケ後(8月下旬予定)に@akiba\_guideから発表させていただきます。)
7. 400点中、平均点260点を想定して問題を作成しています。320点以上取れたら自称アキバガイドとして認定させていただきます。(あくまでも自称です)
8. アキバの達人検定との互換性はあまりないので、こちらの問題が解けてもアキバの達人になれる保証は致しかねます。
9. 問題の内容に関する質問にはお答えできません。

氏名

1

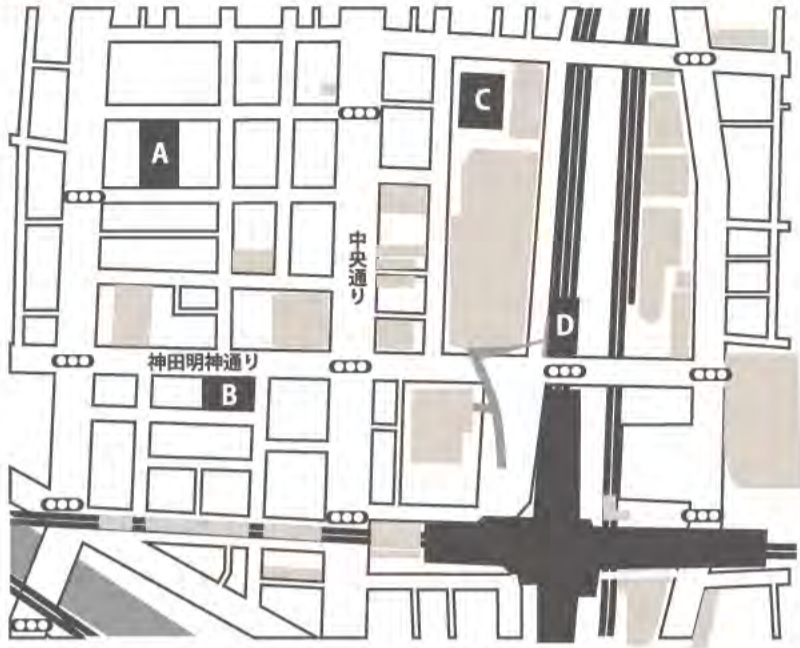
※これが全て答えられてもアキバの達人検定に合格できる保証は全くありません。

秋葉原の地理

氏名

100点

★★ 1 次の地図を見て、各問いに答えよ。



(1) A～Dのお店・建物の名称を答えよ。 [各5点-20]

A ( ) B ( )
C ( ) D ( )

(2) 下はDに関する説明である。ア、イにあてはまる単語を答えよ。 [各5点-10]

Dは、JR秋葉原駅～御徒町駅間の高架下再開発に伴い、2013年7月に開業された、日本全国の「食」の逸品を集めた商業施設である。Dの名はかつて「ア」(やっちゃば)があったことに因んだものである。Dに接する明神坂架道橋の壁面には、「イ」の図柄が描かれている。これはDの区画の旧町名が神田「イ」町と呼ばれていたためである。

ア( ) イ( )

(3) Bに関する次の文で間違っているものを選び。 [5点]

- 1. 5階につくみ×志倉千代丸プロデュースのアイドルカフェがある。
2. Laox ザコンピューター館が入居していた建物を改装した商業ビルである。
3. 個人投資家BNF氏がキャッシュ一括(170億円)で購入したことがある。
4. かつて耳鼻科の神尾病院があったが1989年に移転した。

答え( )

★ 2 JR秋葉原駅から東京スカイツリーまでの行き方について正しい組み合わせはどれか答えよ。 [5点]

電車の場合は、A線に乗り、浅草橋駅で都営浅草線に乗り換え、押上駅まで行く経路が比較的スムーズである。また、秋葉原駅中央口のバスロータリーから東京スカイツリー直行バスBが30分間隔で出発しており、最短20分で到着する。運賃はおとな200円である。

- A B
1. 銀座線 Akiba with 634
2. 銀座線 SKY BUS TOKYO スカイツリー・浅草コース
3. 総武線 Akiba with 634
4. 総武線 SKY BUS TOKYO スカイツリー・浅草コース

答え( )

★★ 3 秋葉原の区域について(a)～(f)にあてはまる字句を答えよ。 [各5点-30]

秋葉原駅や秋葉原電気街のある辺りは行政区分による住所は「秋葉原」ではなく、(a)区外神田近辺である。「秋葉原」と付く名称の住所は(b)区に存在する。しかし、(b)区「秋葉原」には電気街やアニメショップなどはない。東京都が策定した都心等拠点地区における秋葉原地区の範囲は、東は(c)、西は(d)、南は(e)、北は(f)に囲まれた区域である。

- 1. 中央 2. 千代田 3. 文京 4. 墨田 5. 台東
6. 荒川 7. 墨田川 8. 神田川 9. 江戸川 10. 外堀通り
11. 靖国通り 12. 蔵前橋通り 13. 昌平橋通り 14. 明治通り 15. 昭和通り
(a)[ ] (b)[ ] (c)[ ] (d)[ ] (e)[ ] (f)[ ]

★★ 4 次の記述は秋葉原クロスフィールドについて述べたものである。以下の問いに答えよ。 [各5点-20]

「秋葉原クロスフィールド」は、東京都が秋葉原地区の開発にあたり、電気街がもつ魅力や世界的知名度に支えられた集客力を活用し、IT関連産業の世界的な拠点を形成していくことを念頭に、「東京構想2000」、「秋葉原地区まちづくりガイドライン」を打ち出したことによってできたエリアです。2005年に相次いで施設が開業し、秋葉原ブームの発端の一つとなりました。

(1) 東京構想2000を策定した当時の東京都知事の名を答えよ。

答え( )

(2) 秋葉原の再開発地区となった面積を答えよ。

- (ア)4ha (イ)6.4ha (ウ)9ha (エ)31ha (オ)48.8ha

答え( )

(3) 秋葉原クロスフィールドの現在の建物と再開発前の風景の正しい組合せを下図(a)～(f)からそれぞれ選べ。



(a)



(b)



(c)



(d)



(e)



(f)

現在の建物( ) 昔の風景( )

2

※これが全て答えられてもアキバの達人検定に合格できる保証は全くありません。

秋葉原の歴史

氏名

100点

1 下図は明治45年から昭和18年まで存在していた国有鉄道中央本線万世橋駅である。各問いに答えよ。 [各6点-24]



(1) 明治45年に開業した初代の国鉄万世橋駅舎は美しい赤煉瓦に特徴があり、東京駅と同じ名建築家が設計した。その建築家の名を答えよ。

答え ( )

(2) 万世橋駅前には当時の日本軍により日露戦争の軍神と崇められた人物の銅像があった。銅像のモデルになった人物は次のうち誰と誰か。

- a. 東郷平八郎 b. 乃木希介 c. 廣瀬武夫 d. 大村益次郎 e. 杉野孫七

答え ( )と( )

(3) 旧万世橋駅舎はJR東日本ステーションリテイリングにより再開発され、2013年9月に新たな施設として開業する。建物の名称を答えよ。

- a. mAacute b. ちゃばら c. 2k540 d. アーツ千代田3331

答え ( )

2 下図の秋葉原の年表について各問いに答えよ。 [各7点-28]

Table with 2 columns: Year and Event. Rows include昭和24年 (GHQ by露天商撤廃令), 昭和37年 (Radio Club building), 昭和48年 (B), 昭和55年 (C), 平成元年 (D), 平成13年 (Maid cafe), 平成17年 (AKB48), 平成20年 (E).

(1) 秋葉原で初めて歩行者天国が実施された年はA~Eのどれが答えよ。

答え ( )

(2) 山本長蔵がGHQの露天商撤廃令を受け、ラジオ関連の露天商の移転先として創設したビルに含まれないものは次のうちどれか。

- a. ラジオストア b. ラジオセンター c. ラジオデパート d. ラジオガーデン

答え ( )

(3) 現在のメイド喫茶の元祖とされるお店の名は次のうちどれか。

- a. ひよこ家 b. Cure Maid Cafe c. Pia キャロカフェ d. CafeMai:lish

答え ( )

(4) 平成17年におこった出来事はどれが答えよ。

- a. 「萌え」が流行語大賞候補に選出 b. 人工衛星がラジオ会館ビルに墜落 c. 秋葉原クロスフィールド開業 d. 交通博物館がさいたま市に移転

答え ( )

3 神田明神について各問いに答えよ。 [各6点-30]

(1) 神田明神の御祭神は、一ノ宮は(a)、二ノ宮は(b)、三ノ宮は平将門命である。

- 1. 弁才天 2. 大黒天 3. 毘沙門天 4. 寿老人 5. 恵比寿 6. 布袋 7. 福祿寿

(a) [ ] (b) [ ]

(2) 江戸開府以後、神田明神は江戸幕府に厚く崇敬されるようになり「江戸総鎮守」として称えられるようになった理由はどれか。

- 1. 徳川家康が関が原の戦いに臨んだ際、神田明神に祈禱をし勝利したため
2. 平将門の怨霊に苦しめられ、家臣が相次いで亡くなったため
3. 神田明神が江戸城及び徳川將軍家の産土神となったため
4. 江戸最古の地主神である江戸神社が神田明神境内に遷座していたため

答え ( )

(3) 「銭形平次捕物控」の主人公・銭形平次が当神田明神下の長屋に住居を構えていたという設定から、境内に石碑がある。銭形平次捕物控の著者を答えよ。

- a. 司馬遼太郎 b. 野村胡堂 c. 池波正太郎 d. 岡本綺堂

答え ( )

(4) 毎年5月中旬に行われる神田祭は、山王祭、深川祭と並んで江戸三大祭りの一つであるが、平成19年より、江戸時代の神田祭の附け祭 [ア] が約170年ぶりに復活し鬼の曳き物が街中を練り歩いた。[ア] に当てはまる言葉を答えよ。



答え ( )

4 秋葉原の地名の由来について各問いに答えよ。 [各6点-18]

[ ]年の大火で神田相生町から大火があり、その結果、秋葉原駅構内に当たるところ12000坪を火除地にし、江戸城は紅葉山の鎮火三社を奉遷した。神田つ子は火除けの遠州の秋葉神社だろうと早合点し、誰言うとなくそのあたりを秋葉の原・秋葉原などと呼ぶようになった。火除地廻りの土手をつくるため講武芸者が動員され、町名は草花を多く植えたことにより「神田花岡町」と呼ばれるようになった。その後、鎮火社は秋葉神社の名で定着し明治21年に台東区に移転した。

(1) 鎮火社設置のきっかけとなった大火はいつのものか。

- a. 明暦3年 b. 明和9年 c. 明治2年 d. 明治14年

答え ( )

(2) 秋葉神社(鎮火社)はなぜ移転したのか答えよ。

- 1. 青果市場設置のため
2. 三菱に払い下げられたため
3. 陸軍造兵廠設置のため
4. 鉄道駅(貨物駅)設置のため

答え ( )

(3) 現在の神田花岡町を代表する2005年開業の商業ビルを答えよ。

答え ( )

# 3

※これが全て答えられてもアキバの達人検定に合格できる保証は全くありません。

## 秋葉原電気街

氏名

100点

(1) 戦後、秋葉原に電器商が多数集結してきた背景は、が総合問屋として地方にネットワークを持っており、地方から仕入れに来る小売店や卸店で賑わい、秋葉原は安いという宣伝が行き渡っていたことが原因といわれた。にあてはまる言葉は以下のうちどれか答えよ。 [8点]

- a. 朝日無線電機 b. 石丸電気 c. 山際電気 d. 廣瀬無線 e. 中浦電気

答え ( )

(2) 1950年代後半、経済白書に「もはや戦後ではない」と明記され、経済成長と共に「電化製品三種の神器」が大きく喧伝され秋葉原電気街は活気づいた。電化製品三種の神器を全て答えよ。 [1つ3点/全問正解で10点]


答え [ ] [ ] [ ]

(3) 秋葉原の商店150店舗が加盟する秋葉原電気街振興会。2013年現在、同団体の会長をつとめているのは、どのお店の社長か答えよ。 [8点]


- a. オノデン b. とらのあな c. ソフマップ d. ヨドバシ Akiba

答え ( )


(4) 1976年、ラジオ会館内に日本第一号のマイコンショップ「Bit-Inn」がオープンし、同店で売られていたマイコントレーニングキットTK-80が爆発的にヒットしたため、その後コンピュータを扱う店が増えるきっかけとなった。TK-80として正しい図を下図より選べ。 [8点]




ア



イ



ウ



エ

答え ( )

(5) 抵抗はカラーコードと呼ばれる色つきの帯で抵抗値が表される。ある抵抗のカラー表示を見ると左から、茶・黒・赤・金だった。下の表を見て何Ωの抵抗か答えよ。注：左の二つが数値を表し、3つめが乗数、4つめが誤差を表す。 [8点]

1. 200Ω 2. 100Ω 3. 1kΩ 4. 2MΩ

カラーコード表

色	黒	茶	赤	橙	黄	緑	青	紫	灰	白	金	銀
有効数字	0	1	2	3	4	5	6	7	8	9	—	—
乗数	10 <sup>0</sup>	10 <sup>1</sup>	10 <sup>2</sup>	10 <sup>3</sup>	10 <sup>4</sup>	10 <sup>5</sup>	10 <sup>6</sup>	10 <sup>7</sup>	10 <sup>8</sup>	10 <sup>9</sup>	10 <sup>-1</sup>	10 <sup>-2</sup>
許容差	—	±1%	±2%	—	—	—	—	—	—	—	±5%	±10%

答え ( )

(6) 8J1AKIBA をモールス符号で表したものは、次のどれか。注：モールス符号の点、線の長さ及び間隔は簡略化してある。 [8点]

1. - - - . . . - - - . . . - - - . . . - - - . . . - - - . . .  
 2. - - - . . . - - - . . . - - - . . . - - - . . . - - - . . .  
 3. . . . - - - . . . - - - . . . - - - . . . - - - . . .  
 4. . . . - - - . . . - - - . . . - - - . . . - - - . . .

答え ( )

(6) 黄色い取扱い説明書がとても特徴的な、AKI-H8 など様々な電子工作用のキットや電子部品を販売するお店の名を答えよ。 [10点]



- a. スイッチサイエンス  
 b. 千石電商  
 c. マルツパーツ館  
 d. 秋月電子  
 e. 若松通商

答え ( )

(7) 秋葉原の免税店の説明について正しくないものを選べ。 [10点]

- a. 秋葉原にある免税店は「市内免税店」に分類され、関税は免除されず、消費税のみ免除される。  
 b. 秋葉原エリアの免税店は国内で唯一、国内消費を目的とした免税品購入が可能である。  
 c. 免税手続きは商品の合計が10501円以上で買った店の店頭のみ可能である。  
 d. 日本人でもパスポートを持参し、海外居住を証明できれば免税手続きが可能である。

答え ( )

(8) 秋葉原で初めて深夜販売が行われた OS を答えよ。 [10点]

- a. MS-DOS5 b. Windows3.1 c. Windows95  
 d. Windows98 e. WindowsNT4.0

答え ( )

(9) 下図はアキバのパーツ街で見つけることができる PC 自作応援キャラの一部である。 [各5点]



[1] AKIBA PC Hotline! で毎年行われている「アキバで活躍した PC 萌えキャラ人気コンテスト」で3年連続首位の「つくもたん」は a ~ f のどれか。

答え ( )

[2] f は  A  の自作 PC 応援キャラクターの  B  である。声は声優の  C  が担当している。A, B, C の正しい組合せを答えよ。

- |              |           |       |
|--------------|-----------|-------|
| A            | B         | C     |
| 1. AMD       | 愛真田 心     | 山下まみ  |
| 2. Windows7  | 窓辺ななみ     | 水樹奈々  |
| 3. Windows7  | クラウディア・窓辺 | 水樹奈々  |
| 4. Microsoft | 愛真田 心     | 喜多村英梨 |

答え ( )

(10) 近藤科学が製作しているホビー用二足歩行ロボットの名前を答えよ。 [10点]



1. MANOI  
 2. KHR-3HV  
 3. G-ROBOTS  
 4. Robi

答え ( )

